



數學科

考試常見題型 模擬試卷

MOCK AT HOME

1 年級下學期測驗

姓名：_____ () 成績：_____ /100

日期：_____ 時間：45 分鐘

評估單元		
<ul style="list-style-type: none"> ● 報時、小時和時間間隔 ● 星期和月份 ● 立體圖形 ● 點、直線和曲線 ● 平面圖形 ● 一年級上學期部份內容 		
部分	題型	分數
一	短答題	/12
二	選擇題	/12
三	讀圖題	/8
四	簡答題	/8
五	讀圖題	/12
六	讀圖題	/6
七	讀圖題	/10
八	讀圖題	/10
九	計算題	/12
十	讀圖題	/6
十一	畫圖題	/4

(一) 简答题：回答下面問題。(12% @ 2%)

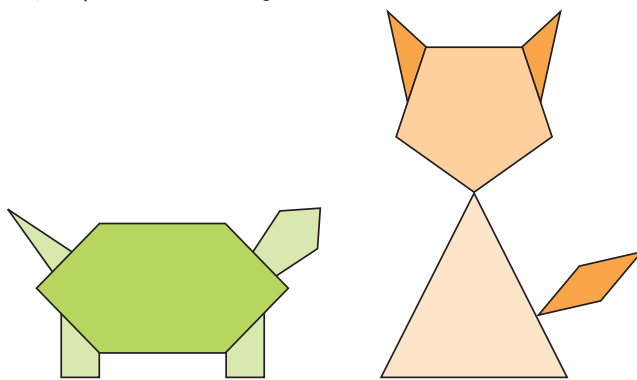
1. 在 50 這個數裏，個位數字表示的數值是多少？ 1. _____

2. 用以下的數卡組成最小的兩位雙數是多少？ 2. _____



3. 一包蘋果有 8 個，爸爸買了 2 包，共有蘋果多少個？ 3. _____ 個

根據下圖，回答第 4 至 6 題。



4. 三角形有多少個？ 4. _____ 個

5. 四邊形和五邊形的數量相差多少個？ 5. _____ 個

6. 組成烏龜和小貓的六邊形的數量相差多少個？ 6. _____ 個

Please do not write in the margin. 請勿在此書寫。

Please do not write in the margin. 請勿在此書寫。

(二) 選擇題：把正確答案的圓圈塗黑和塗滿。(12% @ 2%)

1.



圖書館買了以上圖書，管理員把這些圖書整齊地疊起來，可砌成哪一種立體圖形？

- A. 球 ○B. 角柱 ○C. 角錐 ○D. 正方形

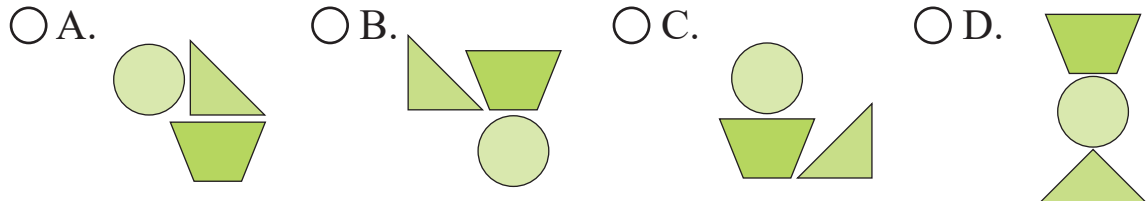
2. 下列哪一道算式的結果最大？

- A. $16 - 6$ ○B. $15 - 7$ ○C. $14 - 8$ ○D. $13 - 9$

3. 如果 $77 - \star - 42 = 10$ ，那麼 $\star = ?$

- A. 52 ○B. 35 ○C. 25 ○D. 15

4. 以下哪一幅圖裏，四邊形在三角形的上面？



5.



左圖的時鐘顯示黏土班開始上課的時間，課堂長一個半小時，黏土班會在甚麼時候下課？

- A. 6 時 ○B. 7 時半 ○C. 9 時 ○D. 9 時半

6. 下列哪一個長度可能是一枝塗改液的長度？

- A. 100 cm ○B. 60 cm
○C. 12 cm ○D. 1 cm



Please do not write in the margin. 請勿在此書寫。

Please do not write in the margin. 請勿在此書寫。

(三) 讀圖題：依指示填填看。(8% @ 2%)

1.




_____ 時

2.




_____ 時半

3.



_____ 時多些

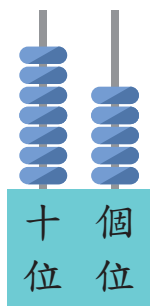
4.



差一些 _____ 時

(四) 簡答題：回答下面問題。(8% @ 2%)

1.



(a) 用中國數字寫出算柱表示的數。

答案：_____

(b) 算柱表示的數裏，十位數字是_____。

2. (a) 73, 72, 71, 70, 下一個數是_____。

(b) 42, 44, 46, 48, 下一個數是_____。


Please do not write in the margin. 請勿在此書寫。

Please do not write in the margin. 請勿在此書寫。

(五) 讀圖題：看看月曆和時鐘，回答問題。(全對才給分) (12% @ 2%)

12 月						
星期日	星期一	星期二	星期三	星期四	星期五	星期六
	1	2	3	4	5	6
7	8	9	10	11	12	13
14	15	16	17	18	19	20
21	22	23	24	25	26	27
28	29	30	31			

1. 聖誕節在 12 月 _____ 日，那天是星期 _____。
2. 芯芯 的生日在 12 月的第二個星期四，那天是 _____ 月 _____ 日。
3. 學校的聖誕假期在 12 月的第三個星期五開始，那天是 _____ 月 _____ 日。
4. 學校的聖誕假期長 _____ 天，最後一天是 1 月 4 日。
5. 《神奇小鳥》是一套卡通片，逢星期二在電視兒童台播放。在 12 月有 _____ 天會播放《神奇小鳥》。
6. 以下的時鐘顯示《神奇小鳥》在星期二開始播放及結束的時間。



《神奇小鳥》播放的時間長 _____ 小時。

Please do not write in the margin. 請勿在此書寫。


Please do not write in the margin. 請勿在此書寫。

(六) 讀圖題：以下物件的形狀像哪一種立體圖形？寫出立體圖形的名稱。
(6% @ 2%)

1.



2.

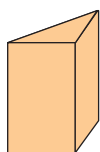


3.

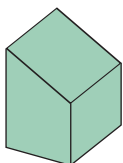


(七) 讀圖題：根據指示，回答下列各題。(全對才給分) (10% @ 2%)

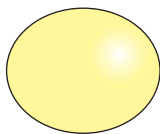
1. 根據指示，寫出所有代表答案的英文字母。



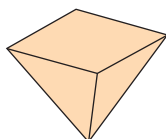
A



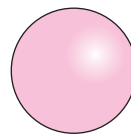
B



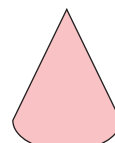
C



D



E



F

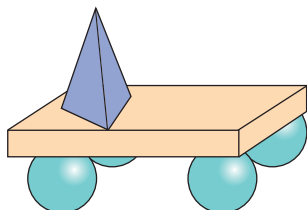
(a) _____ 是球，只有 * 曲面 / 平面。 (* 圈出答案)

(b) _____ 和 _____ 都是柱。

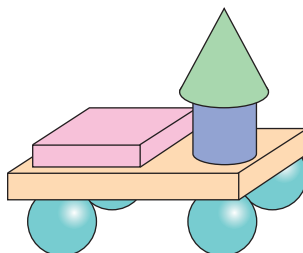
(c) _____ 和 _____ 都是錐。

2. 蕊蕊用積木砌成以下兩個模型。

M



N



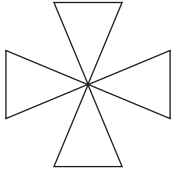
(a) 模型 M 的積木中，球比角錐多 _____ 個。

(b) 模型 N 的柱比模型 M 的柱多 _____ 個。


Please do not write in the margin. 請勿在此書寫。

Please do not write in the margin. 請勿在此書寫。

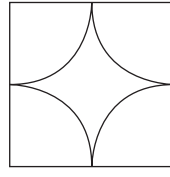
(八) 讀圖題：根據指示，寫出所有代表答案的英文字母。(全對才給分)
(10% @ 5%)



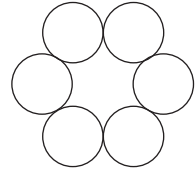
A



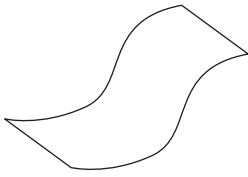
B




C



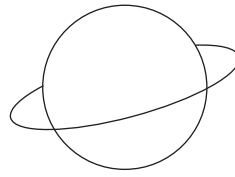
D



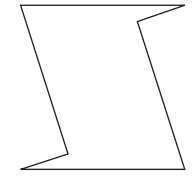
E



F



G



H

1. 只用直線組成的圖：_____
2. 只用曲線組成的圖：_____

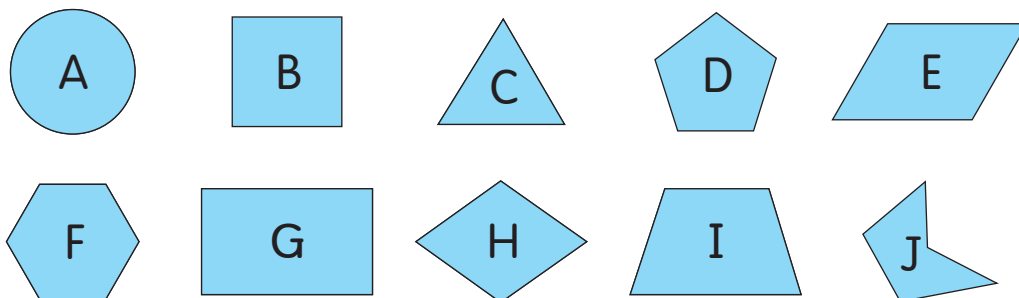
(九) 計算題：計算下面各題。(12% @ 2%)

1. $8 + 11 =$ _____
2. $15 - 7 =$ _____
3. $12 -$ _____ $= 8$
4. _____ $+ 10 = 10$
5. $16 -$ _____ $= 6$
6. $4 +$ _____ $= 11$

Please do not write in the margin. 請勿在此書寫。

Please do not write in the margin. 請勿在此書寫。

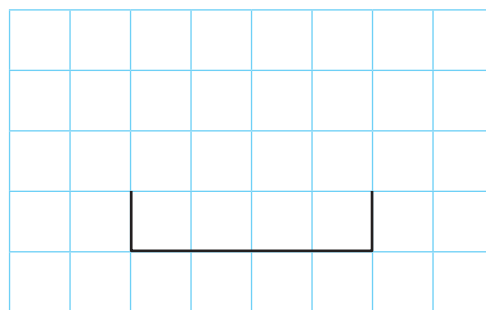
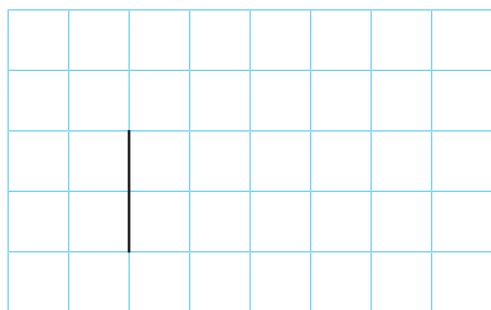
(十) 讀圖題：根據下面的平面圖形，寫出所有代表答案的英文字母。
(全對才給分) (6% @ 2%)



1. 四邊形有：_____
2. _____ 是正方形，而 _____ 是長方形。
3. 這裏有五邊形 _____ 個，
比六邊形 * 多 / 少 _____ 個。 (* 圈出答案)

(十一) 畫圖題：依指示畫出指定的平面圖形。(4% @ 2%)

1. 加上兩條直線，與原有的直線組成一個三角形。
2. 加上兩條直線，與原有的直線組成一個五邊形。



—全卷完—

Please do not write in the margin. 請勿在此書寫。

Please do not write in the margin. 請勿在此書寫。